

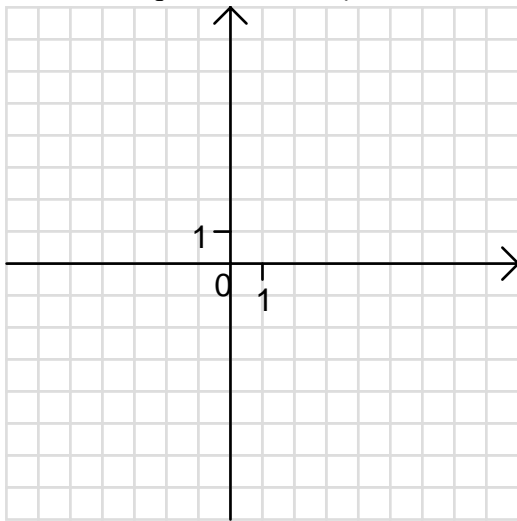
THEME 14 EQUATIONS (5) - SYSTEME DE DEUX EQUATIONS A DEUX INCONNUES - FONCTIONS (3)

Ce que je dois savoir :

- Résoudre algébriquement un système de 2 équations du 1er degré à 2 inconnues, admettant une solution et une seule ; en donner une interprétation graphique.
- Mettre en équation et résoudre un problème conduisant à un système de deux équations du premier degré
- Déterminer l'expression algébrique d'une fonction linéaire à partir de la donnée d'un nombre non nul et de son image.
- Déterminer une fonction affine par la donnée de 2 nombres et de leurs images.

ACTIVITE 1: (Dans cet activité, tu feras que des constatations graphiques. On ne te demande pas de résoudre)

1°) Soit l'équation : $3x + y = 2$.



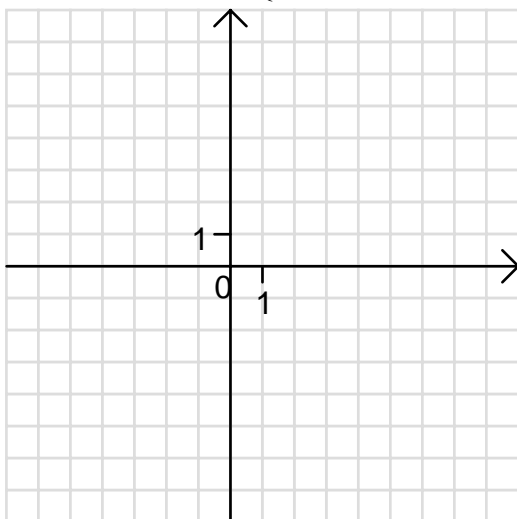
- a) Si $x = 2$, détermine y pour que $(x ; y)$ vérifie l'équation:
.....
Si $y = -4$, détermine x pour que $(x ; y)$ vérifie l'équation:
.....

Les couples $(x ; y)$ vérifiant l'équation sont appelés couples solutions

- Le couple $(1 ; 1)$ est-il solution de l'équation ? :
- b) A un couple $(x ; y)$ solution de l'équation $3x + y = 2$, on associe le point M de coordonnées $(x ; y)$.
Exprime y en fonction de x :

- b) Trace la droite (D) admettant pour équation l'expression trouvée au b) ci-dessus.
- c) Pourquoi les points M sont situés sur la droite (D) ? :
- d) Quel est l'ensemble des solutions de l'équation $3x + y = 2$?.....
-

2°) Soit le système $\begin{cases} 2x - y = 1 & (E_1) \\ -x + 2y = 4 & (E_2) \end{cases}$

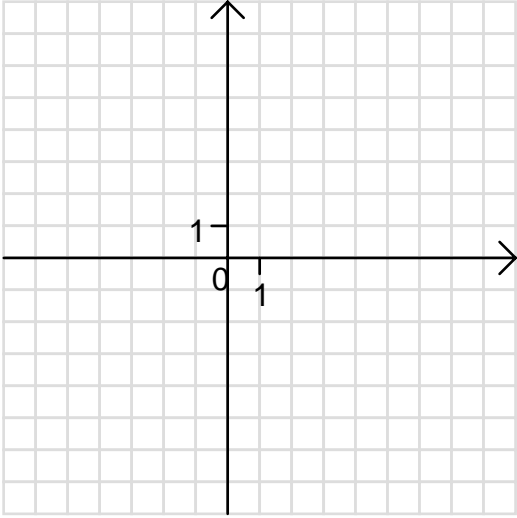
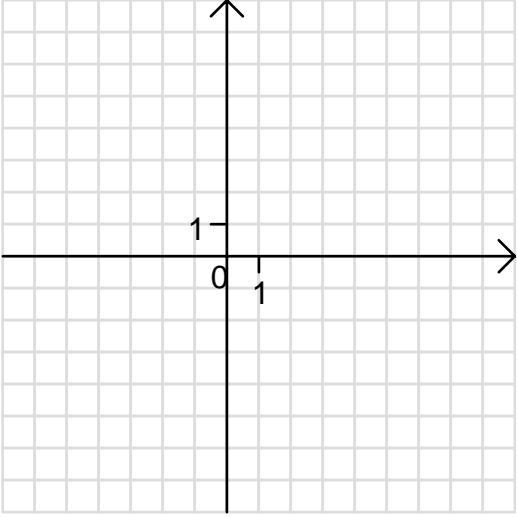


- a) Exprime pour chacune des deux équations (E_1) et (E_2) y en fonction de x .
 (E_1) : $y =$; (E_2) : $y =$
- b) Soit (D) la droite d'équation (E_1) et soit (D') la droite d'équation (E_2) . Trace dans le repère ci-contre les droites (D) et (D').
- c) Quelles sont les coordonnées du(ou des) point(s) qui vérifient à la fois les équations (E_1) et (E_2) ?
.....

d) Conclure sur la(les) solution(s) du système $\begin{cases} 2x - y = 1 \\ -x + 2y = 4 \end{cases}$.

e) Vérifie ta conclusion.

3°) Dans les deux cas, tu traiteras comme le 2°) en ayant toujours comme objectif de connaître les solutions du système.

<p>a) soit le système $\begin{cases} x - y = -2 \\ -2x + 2y = 1 \end{cases}$</p>  <p>Remarques:</p> <p>.....</p> <p>.....</p> <p>.....</p> <p>Pouvais-tu prévoir un tel résultat ? justifie:</p> <p>.....</p> <p>.....</p>	<p>b) soit le système $\begin{cases} -2x - y = -2 \\ x + \frac{1}{2}y = 1 \end{cases}$</p>  <p>Remarques:</p> <p>.....</p> <p>.....</p> <p>.....</p> <p>Pouvais-tu prévoir un tel résultat ? justifie:</p> <p>.....</p> <p>.....</p>
--	--

Exercice n°1:

1°) Regroupe par paire les équations admettant les mêmes couples solutions. Le travail est commencé.

- $-8x - 4y = -3$
- $-2x - 8y = -14$
- $x - y = -1$
- $2x = 2y + 6$
- $x - 5y = 5$

- $x + 4y = 7$
- $-x + y = 1$
- $x - y = 3$
- $-5x + 10y = -25$
- $8x + 4y = 3$

2°) Réécris les deux équations et explique comment on passe de l'une à l'autre.

Exercice n°2: Soit l'équation notée (E_1) : $-2x + 5y = 3$

1°) Parmi les couples suivants, entoure ceux qui sont solutions.

(6;2) $\left(\frac{7}{2};2\right)$ $\left(3;\frac{9}{5}\right)$ (-5;-2) (1;1)

2°) Complète pour obtenir des équations admettant les mêmes couples solutions que (E_1)

(E_2): $x + \dots\dots\dots y = \dots\dots\dots$ (E_3): $\dots\dots\dots + \dots\dots\dots = 9$

(E_4): $\dots\dots\dots - 10y = \dots\dots\dots$ (E_5): $-4x + \dots\dots\dots = \dots\dots\dots$

ACTIVITE 2 :

A - Après cet exercice, tu devras être capable de résoudre un système de deux équations à deux inconnues par la méthode par combinaison.

1°) Soit le système $\begin{cases} x + y = 145 \\ x - y = 63 \end{cases}$

Le but est de déterminer x et y.

Additionne membre à membre pour éliminer y.	$\begin{array}{r} x + y = 145 \\ x - y = 63 \\ \hline 2x = \dots\dots\dots + \dots\dots\dots \\ 2x = \dots\dots\dots \\ x = \dots\dots\dots \end{array}$
Pour déterminer y, on multiplie par (-1) la deuxième équation.	$\begin{array}{r} x + y = 145 \\ \times (-1) \quad x - y = 63 \quad \times (-1) \\ \hline x + y = 145 \\ -x + y = -63 \end{array}$
puis on ajoute membre à membre pour éliminer x.	$\begin{array}{r} x + y = 145 \\ -x + y = -63 \\ \hline 2y = \dots\dots\dots + \dots\dots\dots \\ 2y = \dots\dots\dots \\ y = \dots\dots\dots \end{array}$
Vérifie si le couple (x ; y) convient.
Conclusion : Le système possède une unique solution : (.... ;)	

2°) Résous par la même méthode les systèmes suivants: $\begin{cases} 2x + y = -8 \\ -2x + y = 12 \end{cases}$ $\begin{cases} 3x - y + 5 = 0 \\ 3x + y = 0 \end{cases}$

3°) Un autre exemple: soit le système $\begin{cases} 2x + 3y = 12 \\ x + 2y = 7 \end{cases}$ Complète:

$$\begin{cases} 2x + 3y = 12 & (E_1) \\ x + 2y = 7 & (E_2) \end{cases} \quad \times(-2)$$

$$\begin{array}{r} 2x + 3y = 12 \\ \dots\dots\dots = \dots\dots\dots \\ \hline -y = \dots\dots\dots \\ -y = \dots\dots\dots \\ y = \dots\dots\dots \end{array}$$

$$\begin{cases} 2x + 3y = 12 & (E_1) \quad \times(\dots) \\ x + 2y = 7 & (E_2) \quad \times(\dots) \end{cases}$$

$$\begin{array}{r} \dots\dots + 6y = 12 \\ \dots\dots - 6y = \dots\dots\dots \\ \hline x = \dots\dots\dots \\ x = \dots\dots\dots \end{array}$$

Vérifie si le couple solution convient :

Conclusion : Le système possède une unique solution : (.... ;)

4°) Résous les systèmes suivants:

$$\begin{cases} -4x + 5y = 23 \\ 2x - 3y = -13 \end{cases} \quad \begin{cases} 2x - 5y = 60 \\ 5x + y = 10 \end{cases} \quad \begin{cases} 2x - y - 5 = 0 \\ x - y - 7 = 0 \end{cases} \quad \begin{cases} 2x - y + 2 = 0 \\ 4x + 2y = 3,5 \end{cases}$$

B - Une autre méthode: celle de la substitution.

1°) Soit le système : $\begin{cases} x = 2y + 5 \\ 3x - y = 0 \end{cases}$

Tu vas résoudre ce système par la méthode par substitution

Etape 1: On remplace x par $2y + 5$ dans (E_2)

$$\begin{array}{l} x = 2y + 5 \quad (E_1) \\ 3x - y = 0 \quad (E_2) \quad 3(\dots\dots\dots) - y = 0 \end{array}$$

Etape 2: On détermine y

$$\begin{array}{l} \dots\dots\dots = 0 \\ \dots\dots\dots = 0 \\ 5y = \dots\dots\dots \\ y = \dots\dots\dots \end{array}$$

Etape 3: On détermine x

$$(E_1): \quad \begin{array}{l} x = \dots\dots\dots \\ x = \dots\dots\dots \end{array}$$

Etape 4: On vérifie dans (E_2) :

Etape 5: **Conclusion : (..... ;) est le couple solution.**

2°) Résous les systèmes suivants par la méthode de substitution:

$$\begin{cases} y = 5x \\ 3x + y = -4 \end{cases} \quad \begin{cases} y = 25 - 3x \\ 2x + 3y = 26 \end{cases} \quad \begin{cases} 2x + y = 10 \\ 3x - y + 7 = 0 \end{cases} \quad \begin{cases} y = 2(x + 2) \\ 3x - 2y = 1 \end{cases}$$

Exercice n°3: Résous par la méthode de ton choix, demande-toi quelle est la méthode la mieux adaptée.

$$\begin{cases} 2x + 3y = 5 \\ x + y = 4 \end{cases} \quad \begin{cases} y = 2x + 3 \\ y = -3x + 8 \end{cases} \quad \begin{cases} t + h = -11 \\ t - h = -10 \end{cases} \quad \begin{cases} c + 2d = -11 \\ 2c + d = -10 \end{cases}$$

$$\begin{cases} \frac{l}{3} + \frac{m}{3} = 1 \\ 3l + 2m = 6 \end{cases} \quad \begin{cases} 2x + 5 = 1 \\ 3y - 1 = 1 \end{cases} \quad \begin{cases} 3g - k = 1 \\ 11g + 8k = -1 \end{cases} \quad \begin{cases} \frac{p+1}{2} + \frac{r-4}{6} = 2,5 \\ \frac{2p}{3} - \frac{3r-1}{2} = \frac{-17}{6} \end{cases}$$

Exercice n°4: Problèmes menant à un système de deux équations à deux inconnues.

Attention à la rédaction:

- a) Choix des inconnues
- b) Traduction de l'énoncé et obtention du système.
- c) Résolution
- d) Vérification
- e) Phrase de conclusion

1°) Un fermier a des lapins et des poules; en tout il compte 14 têtes et 40 pattes. Combien a-t-il de lapins, de poules ?

2°) Un terrain a la forme d'un rectangle dont le périmètre est 840 m. Détermine la longueur et la largeur de ce terrain sachant que leur différence est de 180 m.

3°) Détermine deux nombres sachant que: leur somme est égale à 119; les $\frac{3}{4}$ de l'un sont égaux aux $\frac{2}{3}$ de l'autre.

4°) Didier et Olivier jouent aux billes. Au départ Olivier a le double de billes de Didier. Au cours de la partie, Didier prend 5 billes à Olivier, il a alors le triple de billes d'Olivier. Combien avaient-ils de billes chacun à l'origine ?

5°) L'unité de longueur est le m. La mesure du périmètre d'un rectangle est 62. Si on augmente la longueur de 2 et si on diminue la largeur de 1 alors la mesure de la surface du rectangle est inchangée. Calcule les dimensions du rectangle.

6°) Pour parcourir la même distance, en partant à la même heure: si je prends l'autoroute à 120 km/h de moyenne, j'arriverai à 17 h; si je prends la route à 80 km/h, j'arriverai à 19h. quelle est cette distance ?

Exercice n°5: Complète le tableau puis construis les dix droites dans un même repère (O ; I, J)

<i>f</i> onction	définition	image de <i>x</i>	coefficients <i>a</i> et <i>b</i> :	type	équation de la droite	points de la droite
<i>f</i>	$f : x \mapsto 4x - 3$	$f(x) = 4x - 3$	$a = 4 \quad b = -3$	affine	$y = 4x - 3$	A(2 ; ...) B(-1 ; ...)
<i>g</i>	$g : x \mapsto 2x + 1$		$a = \dots \quad b = \dots$			C(-3 ; ...) D(3 , ...)
...	$h : x \mapsto 2 + x$					E(-3 ; ...) F(3 , ...)
...		$i(x) = \frac{1}{2}x$				G(-2 ; ...) H(... , 4)
<i>j</i>			$a = -\frac{1}{4} \quad b = \frac{1}{2}$			K(-2 ; ...) L(... , -1)
<i>k</i>						M(-3 ; 3) N(3 , 3)
<i>l</i>						P(2 ; -1) Q(-1 ; 1)
...				linéaire		R(2 ; ...) S(-1 ; 3)
<i>n</i>				constante		T(0 ; -5) U(4 ; ...)
...	$p : x \mapsto \mathbf{0}$					V(-2 ; ...) W(3 , ...)

Exercice n°6 : Détermination d'une fonction affine

1. Soit la fonction linéaire $f : x \mapsto ax$. Détermine a pour que $f(2) = -4$.
2. Détermine la fonction linéaire g telle que $g(\sqrt{2}) = 2$.
3. Soit la fonction affine $g : x \mapsto ax + b$. Détermine a et b telle que : $g(0) = 3$ et $g(1) = -4$.
4. Détermine la fonction affine g telle que : $g(1) = 2$ et $g(2) = 1$.
5. Détermine la fonction affine h telle que : $h\left(\frac{1}{3}\right) = \frac{11}{6}$ et $h(1) = 0$.
6. Détermine la fonction affine f telle que : $f(\sqrt{3}) = 0$ et $f(1 + \sqrt{3}) = 2$.